

Exercice n° 1

1) $\Delta = (-2^{n+1} \cos \theta)^2 - 4 \times 2^{2n} = 2^{2n+2} \cos^2 \theta - 2^{2n+2} = 2^{2n+2} (\cos^2 \theta - 1) = -2^{2n+2} \sin^2 \theta = -(2^{n+1} \sin \theta)^2$

Donc $z^2 - (2^{n+1} \cos \theta)z + 2^{2n} = 0$ possède deux racines :

$$z_1 = \frac{2^{n+1} \cos \theta + 2^{n+1} i \sin \theta}{2} = 2^n (\cos \theta + i \sin \theta) = 2^n e^{i\theta} \text{ et } z_2 = \bar{z}_1 = 2^n e^{-i\theta}$$

2) $z_{OA} = z_1 = 2^n e^{i\theta}$; $z_{OB} = z_2 = 2^n e^{-i\theta}$ donc $(\widehat{OA, OB}) = \arg\left(\frac{z_2}{z_1}\right) = \arg(z_2) - \arg(z_1) = -\theta - \theta = -2\theta$

$OA = |z_1| = 2^n = |z_2| = OB$, Pour que OAB soit équilatéral il faut que $(\widehat{OA, OB}) = \frac{\pi}{3} + 2k\pi$, $k \in \mathbb{Z}$

ou $(\widehat{OA, OB}) = -\frac{\pi}{3} + 2k\pi$, $k \in \mathbb{Z}$ c'est-à-dire $-2\theta = \frac{\pi}{3} + 2k\pi$ ou $-2\theta = -\frac{\pi}{3} + 2k\pi$ ou encore

$$\theta = -\frac{\pi}{6} + k\pi \text{ ou } \theta = \frac{\pi}{6} + k\pi$$

Exercice n° 2

1) $Z = \frac{z_1}{z_2} = \frac{(1+i)\sqrt{2}}{\sqrt{3-i}} = 2\sqrt{2} \left(\frac{1+i}{\sqrt{3-i}} \right) = 2\sqrt{2} \left(\frac{(1+i)(\sqrt{3}+i)}{4} \right) = \frac{\sqrt{2}}{2} (\sqrt{3} + i + i\sqrt{3} - 1)$
 $= \frac{\sqrt{2}}{2} (\sqrt{3} - 1 + (\sqrt{3} + 1)i) = \frac{\sqrt{6} - \sqrt{2}}{2} + i \frac{\sqrt{6} + \sqrt{2}}{2}$

2) a) $z_1 = \sqrt{2}(1+i) = 2e^{i\frac{\pi}{4}}$ et $z_2 = \frac{\sqrt{3-i}}{2} = e^{-i\frac{\pi}{6}}$

b) $Z = \frac{z_1}{z_2} = \frac{2e^{i\frac{\pi}{4}}}{e^{-i\frac{\pi}{6}}} = 2e^{i(\frac{\pi}{4} + \frac{\pi}{6})} = 2e^{i\frac{5\pi}{12}}$

3) a) $Z = 2e^{i\frac{5\pi}{12}} = 2 \left(\cos \frac{5\pi}{12} + i \sin \frac{5\pi}{12} \right) = \frac{\sqrt{6} - \sqrt{2}}{2} + i \frac{\sqrt{6} + \sqrt{2}}{2}$

donc $\cos \frac{5\pi}{12} = \frac{\sqrt{6} - \sqrt{2}}{4}$ et $\sin \frac{5\pi}{12} = \frac{\sqrt{6} + \sqrt{2}}{4}$

b) $\cos \frac{\pi}{12} = \cos \left(\frac{\pi}{2} - \frac{5\pi}{12} \right) = \sin \frac{5\pi}{12} = \frac{\sqrt{6} + \sqrt{2}}{4}$ et $\sin \frac{\pi}{12} = \sin \left(\frac{\pi}{2} - \frac{5\pi}{12} \right) = \cos \frac{5\pi}{12} = \frac{\sqrt{6} - \sqrt{2}}{4}$

Exercice n° 3

Partie A

1) $P(i) = i^3 + 2(1-i)i^2 + 2(1-2i)i - 4i = -i - 2 + 2i + 2i + 4 - 4i = 2 - i$

$P(\sqrt{2}) = 2\sqrt{2} + 4(1-i) + 2\sqrt{2}(1-2i) - 4i = 4 + 4\sqrt{2} - (8 - 4\sqrt{2})i$

2) $P(iy) = -y^3 i - 2(1-i)y^2 + 2y(1-2i)i - 4i = -y^3 i - 2y^2 + 2iy^2 + 2iy + 4y - 4i$
 $= -2y^2 + 4y + (-y^3 + 2y^2 + 2y - 4)i$

$P(iy) = 0 \Leftrightarrow \begin{cases} -2y^2 + 4y = 0 \\ -y^3 + 2y^2 + 2y - 4 = 0 \end{cases} \Leftrightarrow \begin{cases} y = 0 \text{ ou } y = 2 \\ -y^3 + 2y^2 + 2y - 4 = 0 \end{cases} \Leftrightarrow y = 2$

Donc $P(2i) = 0$

3) $P(z) = (z-2i)(z^2 + az + b) = z^3 + az^2 + bz - 2iz^2 - 2iaz - 2ib = z^3 + (a-2i)z^2 + (b-2ia)z - 2ib$

Donc $\begin{cases} a-2i = 2(1-i) \\ b-2ia = 2(1-2i) \\ -2ib = -4i \end{cases} \Leftrightarrow \begin{cases} a = 2 \\ b = 2 \end{cases}$

Donc $P(z) = (z-2i)(z^2 + 2z + 2)$

4) $z^2 + 2z + 2 = 0$, $\Delta = 4 - 8 = -4 = (2i)^2$ donc $z = \frac{-2-2i}{2} = -1-i$ ou $z = \frac{-2+2i}{2} = -1+i$

$P(z) = 0 \Leftrightarrow z-2i = 0$ ou $z^2 + 2z + 2 = 0 \Leftrightarrow z = 2i$ ou $z = -1-i$ ou $z = -1+i$

$S_c = \{2i, -1+i, -1-i\}$

Partie B

1) $\overline{OD} = -2\overline{OA}$ donc $z_D = -2z_A = 2 - 2i$



tuniTests.tn

نجاحك يهمنا

$$2) z_1 = \frac{z_C + z_D}{2} = \frac{2i + 2 - 2i}{2} = 1$$

$$3) a) \frac{z_C - z_A}{z_D - z_A} = \frac{2i + 1 - i}{2 - 2i + 1 - i} = \frac{i + 1}{3 - 3i} = \frac{(1+i)^2}{3(1-i)(1+i)} = \frac{2i}{6} = \frac{1}{3}i \text{ et}$$

$$\frac{z_C - z_B}{z_D - z_B} = \frac{2i + 1 + i}{2 - 2i + 1 + i} = \frac{1 + 3i}{3 - i} = \frac{(1+3i)(3+i)}{10} = \frac{3 + 9i + i - 3}{10} = i$$

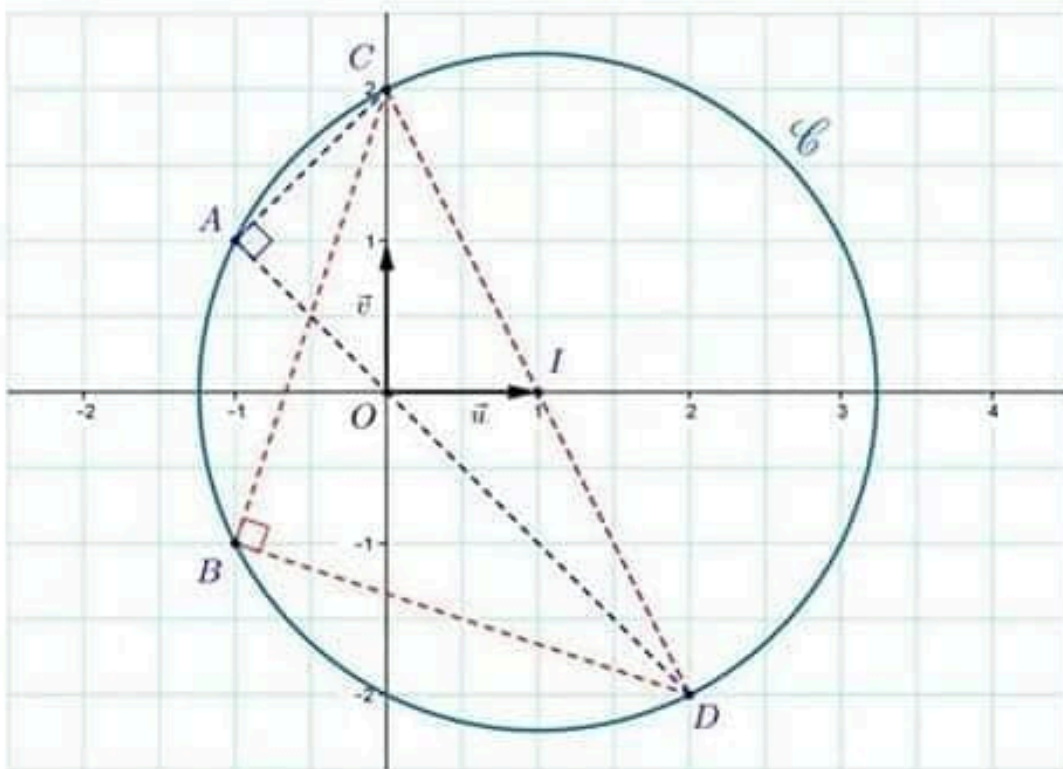
$$b) \left| \frac{z_C - z_A}{z_D - z_A} \right| = \left| \frac{1}{3}i \right| = \frac{1}{3}, \arg\left(\frac{z_C - z_A}{z_D - z_A}\right) = \arg\left(\frac{1}{3}i\right) = \frac{\pi}{2}, \left| \frac{z_C - z_B}{z_D - z_B} \right| = 1 \text{ et } \arg\left(\frac{z_C - z_B}{z_D - z_B}\right) = \arg(i) = \frac{\pi}{2}$$

$$c) \arg\left(\frac{z_C - z_A}{z_D - z_A}\right) = \frac{\pi}{2} = (\widehat{AD, AC}) \text{ donc ACD est rectangle en A}$$

$$\arg\left(\frac{z_C - z_B}{z_D - z_B}\right) = \frac{\pi}{2} = (\widehat{BD, BC}) \text{ donc BCD est rectangle en B, } \left| \frac{z_C - z_B}{z_D - z_B} \right| = 1 = \frac{BC}{BD} \text{ donc BCD}$$

isocèle de sommet principal B

d) A, C et D se trouvent sur le cercle circonscrit au triangle ACD c'est-à-dire le cercle \mathcal{C} de centre I et de rayon IA. Le cercle \mathcal{C} passe par B car son diamètre est l'hypoténuse du triangle rectangle BCD



Exercice n° 4

1) -2 est une solution réelle de l'équation (E) : $z^3 + 8 = 0$ donc :

$$z^3 + 8 = (z + 2)(z^2 + az + c) = z^3 + az^2 + cz + 2z^2 + 2az + 2c = z^3 + (a + 2)z^2 + (c + 2a)z + 2c$$

$$\text{Et par suite } \begin{cases} a + 2 = 0 \\ c + 2a = 0 \\ 2c = 8 \end{cases} \Leftrightarrow \begin{cases} a = -2 \\ c = 4 \end{cases} \text{ donc } z^3 + 8 = (z + 2)(z^2 - 2z + 4)$$

$$z^2 - 2z + 4 = 0, \Delta = -12 = (2i\sqrt{3})^2 \text{ donc } z = \frac{2 + 2i\sqrt{3}}{2} = 1 + i\sqrt{3} \text{ ou } z = \frac{2 - 2i\sqrt{3}}{2} = 1 - i\sqrt{3}$$

$$\text{En fin (E) : } z^3 + 8 = 0 \Leftrightarrow (z + 2)(z^2 - 2z + 4) = 0 \Leftrightarrow z = -2 = 2e^{i\pi} \text{ ou } z = 1 + i\sqrt{3} = 2e^{i\pi/3} \text{ ou } z = 1 - i\sqrt{3} = 2e^{-i\pi/3}$$

$$S_C = \{-2, 1 + i\sqrt{3}, 1 - i\sqrt{3}\}$$

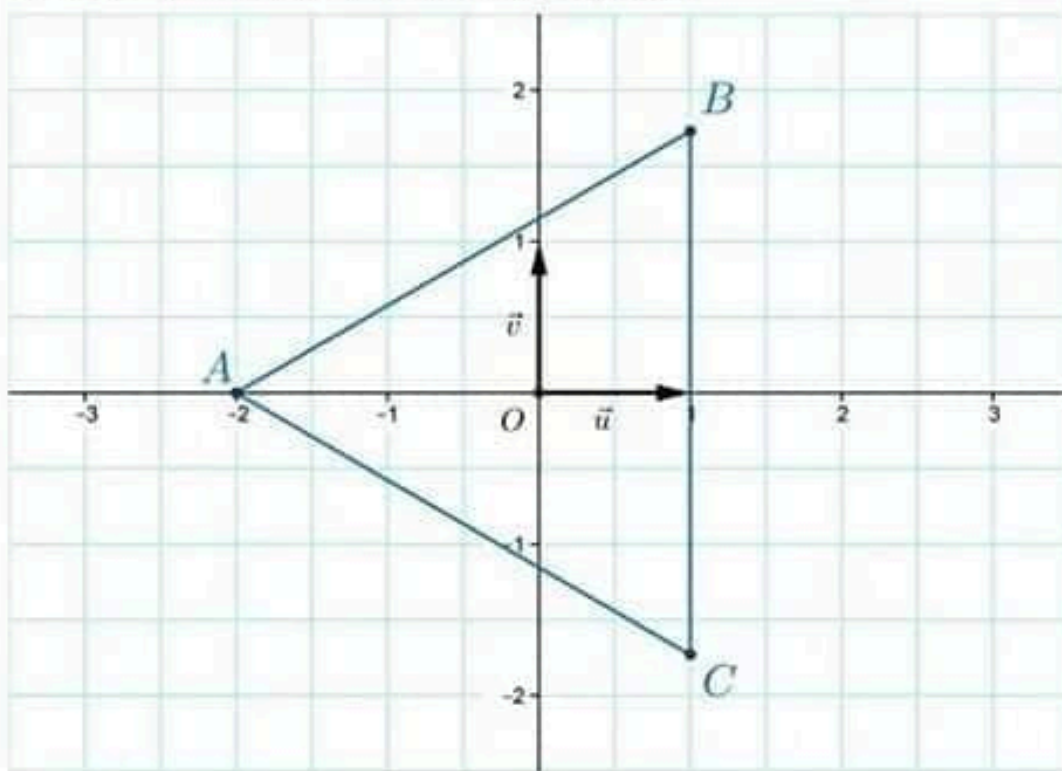
2) $z_A = -2, z_B = 1 + i\sqrt{3}$ et $z_C = 1 - i\sqrt{3}$

$$AB = |z_B - z_A| = |3 + i\sqrt{3}| = \sqrt{12} = 2\sqrt{3}, AC = |z_C - z_A| = |3 - i\sqrt{3}| = \sqrt{12} = 2\sqrt{3} \text{ et}$$

$$BC = |z_C - z_B| = |-2i\sqrt{3}| = \sqrt{12} = 2\sqrt{3}$$

6 Les nombres complexes - Corrigés

On a $AB = AC = BC$ donc ABC est un triangle équilatéral



Exercice n° 5

1) Soit $z_1 = x$ un nombre réel, x est solution de (E)

$$\Leftrightarrow 2x^2 + (7 + i\sqrt{3})x - 4(1 - i\sqrt{3}) = 0 \Leftrightarrow (2x^2 + 7x - 4) + i(x\sqrt{3} + 4\sqrt{3}) = 0$$

C'est-à-dire
$$\begin{cases} 2x^2 + 7x - 4 = 0 \\ x\sqrt{3} + 4\sqrt{3} = 0 \end{cases} \Leftrightarrow \begin{cases} x = \frac{1}{2} \text{ ou } x = -4 \\ x = -4 \end{cases} \Leftrightarrow x = -4 \text{ donc } z_1 = -4$$

Soit z_2 l'autre solution de (E) on a donc $z_1 + z_2 = -\frac{7 + i\sqrt{3}}{2}$ donc $z_2 = -\frac{7 + i\sqrt{3}}{2} + 4 = \frac{1}{2} - i\frac{\sqrt{3}}{2}$

2)
$$\left(\frac{\sqrt{3}}{2} - \frac{1}{2}i\right)^2 = \frac{3}{4} - i\frac{\sqrt{3}}{2} - \frac{1}{4} = \frac{1}{2} - i\frac{\sqrt{3}}{2}$$

3) On pose $Z = z$, (E') $\Leftrightarrow 2Z^2 + (7 + i\sqrt{3})Z - 4(1 - i\sqrt{3}) = 0 \Leftrightarrow Z = -4$ ou $Z = \frac{1}{2} - i\frac{\sqrt{3}}{2}$ donc $z = 2i$

ou $z = -2i$ ou $z = \frac{\sqrt{3}}{2} - \frac{1}{2}i$ ou $z = -\frac{\sqrt{3}}{2} + \frac{1}{2}i$

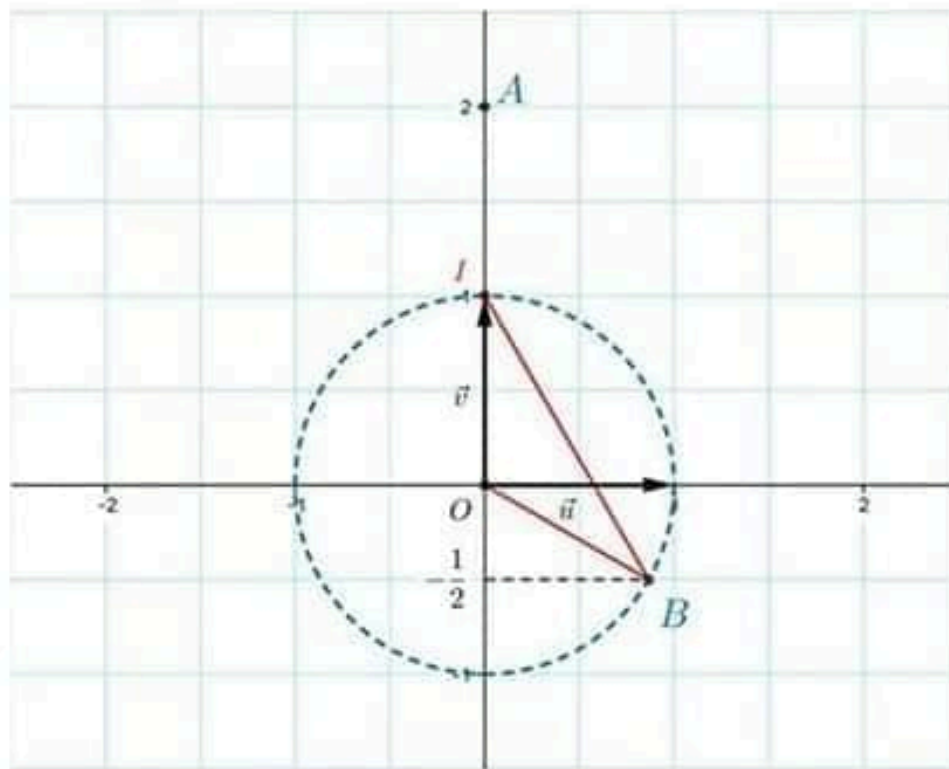
4) $z_0 = \frac{\sqrt{3}}{2} - \frac{1}{2}i = e^{-i\frac{\pi}{6}}$

$z_1 = \frac{z_0}{2} = \frac{1}{2}$, $OI = |z_1| = 1$ et $OB = |z_0| = \sqrt{\frac{3}{4} + \frac{1}{4}} = 1 = OI$ donc OIB est isocèle



tuniTests.tn

نجاحك يهمنا


Exercice n° 6

- 1) $\frac{z_A + z_B}{2} = i$ et $\frac{z_O + z_C}{2} = i$ donc $[AB]$ et $[OC]$ ont le même milieu et par suite $OACB$ est un parallélogramme
 $\frac{z_{AB}}{z_{OC}} = \frac{z_B - z_A}{z_C} = \frac{-\sqrt{3} + i - \sqrt{3} - i}{2i} = \frac{-\sqrt{3}}{i} = i\sqrt{3} \in i\mathbb{R}$ donc $(OC) \perp (AB)$ et par suite $OACB$ est un losange
- 2) $\Delta = (2i)^2 - 4 \times (-4) = 16 - 4 = 12$, donc (E) possède deux racines $z_1 = i - \sqrt{3} = 2e^{i\frac{5\pi}{6}}$ et $z_2 = i + \sqrt{3} = 2e^{i\frac{\pi}{6}}$
- 3) $(2i)^3 - 4i(2i)^2 - 8 \times (2i) + 8i = -8i + 16i - 16i + 8i = 0$ donc $P(2i) = 0$
 $(z - 2i)(z^2 + mz + p) = z^3 + mz^2 + pz - 2iz^2 - 2imz - 2ip$
 $= z^3 + (m - 2i)z^2 + (p - 2im)z - 2ip = z^3 - 4iz^2 - 8z + 8i$
 donc $\begin{cases} m - 2i = -4i \\ p - 2im = -8 \\ -2ip = 8i \end{cases} \Leftrightarrow \begin{cases} m = -2i \\ p = -4 \end{cases}$ donc $P(z) = z^3 - 4iz^2 - 8z + 8i = (z - 2i)(z^2 - 2iz^2 - 4)$
 $P(z) = 0 \Leftrightarrow z - 2i = 0$ ou $z^2 - 2iz - 4 = 0 \Leftrightarrow z = 2i$ ou $z = i - \sqrt{3}$ ou $z = i + \sqrt{3}$

Exercice n° 7
Partie A

- 1) $(3+i)^2 = 9 + 6i - 1 = 8 + 6i$ donc $(3+i)$ est une racine carrée complexe de $(8 + 6i)$
- 2) $(-i)^3 - (1+4i)(-i)^2 - 3 \times (-i) - 1 - 8i = i + (1+4i) + 3i - 1 - 8i = i + 4i + 3i - 8i + 1 - 1 = 0$ donc $(-i)$ est une racine de (E) et par suite on peut écrire :
 $z^3 - (1+4i)z^2 - 3z - 1 - 8i = (z+i)(az^2 + bz + c)$
 $= az^3 + bz^2 + cz + aiz^2 + biz + ic$
 $= az^3 + (b+ai)z^2 + (c+bi)z + ic$
 Donc $\begin{cases} a = 1 \\ b+ai = -(1+4i) \\ c+bi = -3 \\ ic = -1-8i \end{cases} \Leftrightarrow \begin{cases} a = 1 \\ b = -1-5i = -(1+5i) \\ c = -8+i \end{cases}$

Enfin $z^3 - (1+4i)z^2 - 3z - 1 - 8i = (z+i)(z^2 + -(1+5i)z - 8+i)$

3) $z^2 + -(1+5i)z - 8+i = 0$, $\Delta = (1+5i)^2 - 4 \times (-8+i) = 1+10i-25-4i+32 = 8+6i = (3+i)^2$

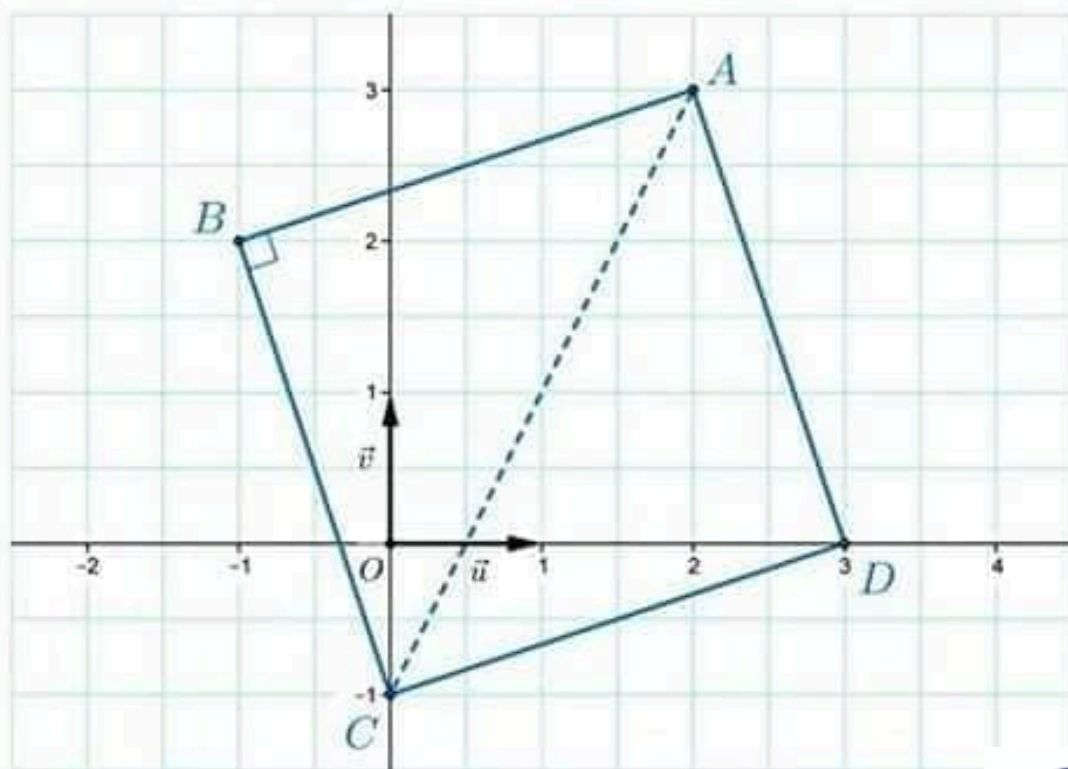
$z_1 = \frac{1+5i+3+i}{2} = 2+3i$ $z_2 = \frac{1+5i-3-i}{2} = -1+2i$ donc $S_c = \{2+3i; -1+2i\}$

4) (E) $\Leftrightarrow (z+i)(z^2 + -(1+5i)z - 8+i) \Leftrightarrow z = -i$ ou $(z^2 + -(1+5i)z - 8+i) = 0$ donc

$S_c = \{2+3i; -1+2i; -i\}$

Partie B

1)



2) a) $|Z| = \left| \frac{z_3 - z_2}{z_1 - z_2} \right| = \frac{|z_3 - z_2|}{|z_1 - z_2|} = \frac{BC}{BA}$ et $\arg\left(\frac{z_3 - z_2}{z_1 - z_2}\right) = (\widehat{BA, BC})$

b) $Z = \frac{z_3 - z_2}{z_1 - z_2} = \frac{-i+1-2i}{2+3i+1-2i} = \frac{1-3i}{3+i} = \frac{(1-3i)(3-i)}{10} = \frac{3-i-9i-3}{10} = -i = e^{-i\frac{\pi}{2}}$

c) $|Z| = |i| = 1 = \frac{BC}{BA}$ et $\arg(Z) = -\frac{\pi}{2} = (\widehat{BA, BC})$ donc ABC est isocèle rectangle en B

3) On a $AB = BC$ et $(\widehat{BA, BC}) = -\frac{\pi}{2}$ donc il suffit de montrer que ABCD est un parallélogramme pour en déduire que c'est un carré :

$$\left. \begin{aligned} \frac{z_1 + z_3}{2} &= \frac{2+3i-i}{2} = 1+i \\ \frac{z_2 + z_4}{2} &= \frac{-1+2i+3}{2} = 1+i \end{aligned} \right\} \text{[AC] et [BD] ont le même milieu donc ABCD est un parallélogramme}$$

d'où le résultat



Exercice n° 8

I. 1)

$(z-2i)(z^2 - 2\sqrt{3}z + 4) = z^3 - 2\sqrt{3}z^2 + 4z - 2iz^2 + 4i\sqrt{3}z - 8i = z^3 - 2(i+\sqrt{3})z^2 + 4(1+i\sqrt{3})z - 8i = f(z)$

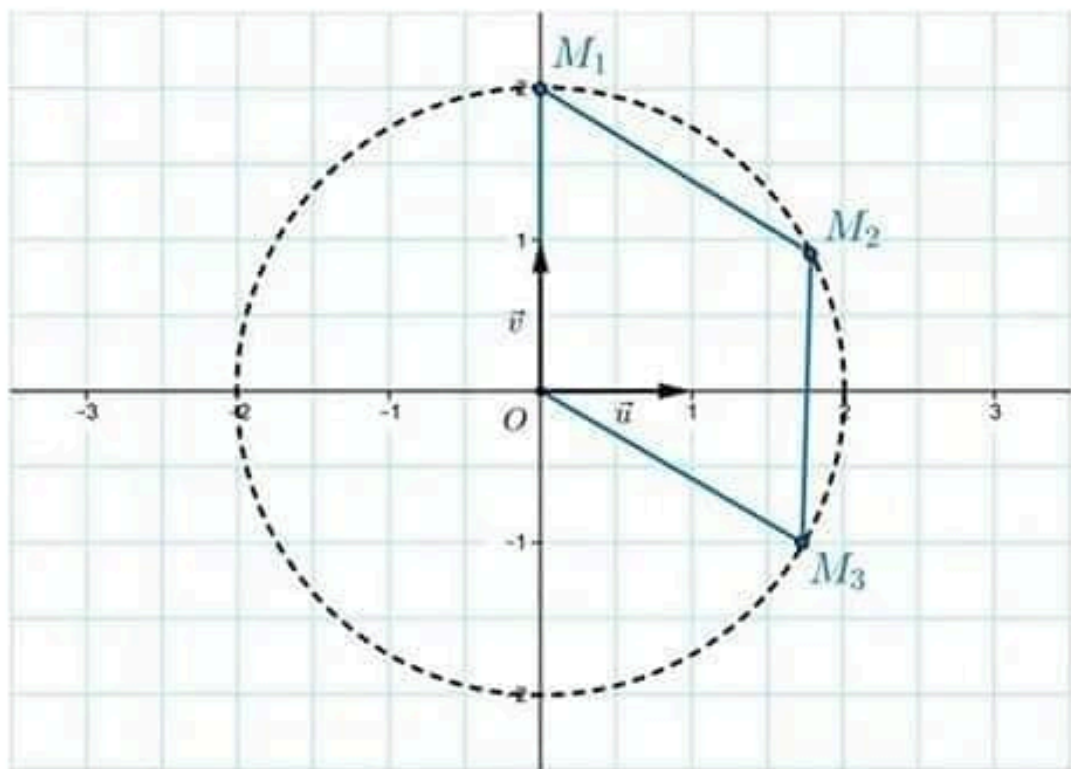
2) $f(z) = 0 \Leftrightarrow (z-2i)(z^2 - 2\sqrt{3}z + 4) = 0 \Leftrightarrow (z-2i) = 0$ ou $(z^2 - 2\sqrt{3}z + 4) = 0$

$\Leftrightarrow z = 2i = 2e^{i\frac{\pi}{2}}$ ou $z^2 - 2\sqrt{3}z + 4 = 0$

$z^2 - 2\sqrt{3}z + 4 = 0$, $\Delta = (2\sqrt{3})^2 - 4 \times 4 = 12 - 16 = -4 = (2i)^2$ donc $z_1 = \frac{2\sqrt{3} - 2i}{2} = \sqrt{3} - i = 2e^{-i\frac{\pi}{6}}$ et

$$z_2 = \frac{2\sqrt{3} + 2i}{2} = \sqrt{3} + i = 2e^{i\frac{\pi}{6}}$$

$$S_c = \{2i, (\sqrt{3} - i), (\sqrt{3} + i)\}$$



tuniTests.tn

نجاحك يهمننا

II. On a $OM_1 = |z_1| = 2$, $OM_2 = |z_2| = 2$ et $OM_3 = |z_3| = 2$ donc M_1 , M_2 et M_3 se trouvent sur le cercle de centre O et de rayon 2

$$z_2 - z_1 = \sqrt{3} + i - \sqrt{3} + i = 2i \quad z_2 - z_3 = \sqrt{3} + i - 2i = \sqrt{3} - i$$

$\frac{z_1 + z_3}{2} = \frac{\sqrt{3} - i + 2i}{2} = \frac{\sqrt{3} + i}{2} = \frac{z_2}{2}$ donc $[M_1M_3]$ et $[OM_2]$ ont le même milieu et par suite OM_2M_3 est un parallélogramme

$MM_2 = |z_2 - z_1| = |2i| = 2$ et $M_3M_2 = |z_2 - z_3| = |\sqrt{3} - i| = 2 = MM_2$ donc OMM_2M_3 est un losange

Exercice n° 9

1) $P(i\sqrt{3}) = (i\sqrt{3})^4 - 6(i\sqrt{3})^3 + 24(i\sqrt{3})^2 - 18(i\sqrt{3}) + 63 = 9 + 18i\sqrt{3} - 72 - 18i\sqrt{3} + 63 = 0$

$$P(-i\sqrt{3}) = (-i\sqrt{3})^4 - 6(-i\sqrt{3})^3 + 24(-i\sqrt{3})^2 - 18(-i\sqrt{3}) + 63 = 9 - 18i\sqrt{3} - 72 + 18i\sqrt{3} + 63 = 0$$

On note $Q(z) = az^2 + bz + c$, pour tout nombre complexe z on a :

$$(z^2 + 3)(az^2 + bz + c) = az^4 + bz^3 + cz^2 + 3az^2 + 3bz + 3c = az^4 + bz^3 + (c + 3a)z^2 + 3bz + 3c = P(z)$$

Par identification, on obtient :

$$\begin{cases} a = 1 \\ b = -6 \\ c + 3a = 24 \text{ c'est-à-dire } \\ 3b = -18 \\ 3c = 63 \end{cases} \quad \text{c'est-à-dire} \quad \begin{cases} a = 1 \\ b = -6 \\ c = 21 \end{cases} \quad \text{donc } P(z) = (z^2 + 3)(z^2 - 6z + 21)$$

2) $P(z) = 0 \Leftrightarrow (z^2 + 3)(z^2 - 6z + 21) = 0 \Leftrightarrow (z^2 + 3) = 0$ ou $(z^2 - 6z + 21) = 0$

L'équation $(z^2 + 3) = 0$ admet pour solutions $i\sqrt{3}$ et $-i\sqrt{3}$

L'équation $(z^2 - 6z + 21) = 0$ a pour discriminant $\Delta = 36 - 84 = -48 = (4i\sqrt{3})^2$ donc les solutions

sont $z_1 = \frac{6 + 4i\sqrt{3}}{2} = 3 + 2i\sqrt{3}$ et $z_2 = 3 - 2i\sqrt{3}$ $S_c = \{(i\sqrt{3}), (-i\sqrt{3}), (3 + 2i\sqrt{3}), (3 - 2i\sqrt{3})\}$

3) On a $z_A = \overline{z_B}$ et $z_O = \overline{z_C}$ donc s'il existe un cercle C de centre Ω qui passe par A, B C et D alors Ω doit appartenir à l'axe des abscisses (l'axe des abscisse est la médiatrice des segments $[AB]$ et $[CD]$). Cherchons s'il existe un point Ω d'affixe $z_O = x$ réel pure équidistant des points

6 Les nombres complexes - Corrigés

A, B, C et D :

$$\Omega A^2 = |i\sqrt{3} - x|^2 = x^2 + 3 \text{ et } \Omega C^2 = |3 - x + 2i\sqrt{3}|^2 = (3 - x)^2 + 12 = 9 - 6x + x^2 + 12 = x^2 - 6x + 21$$

$$\Omega A = \Omega C \Leftrightarrow \Omega A^2 = \Omega C^2 \Leftrightarrow x^2 + 3 = x^2 - 6x + 21 \Leftrightarrow 6x = 18 \Leftrightarrow x = 3 \text{ donc } z_0 = 3$$

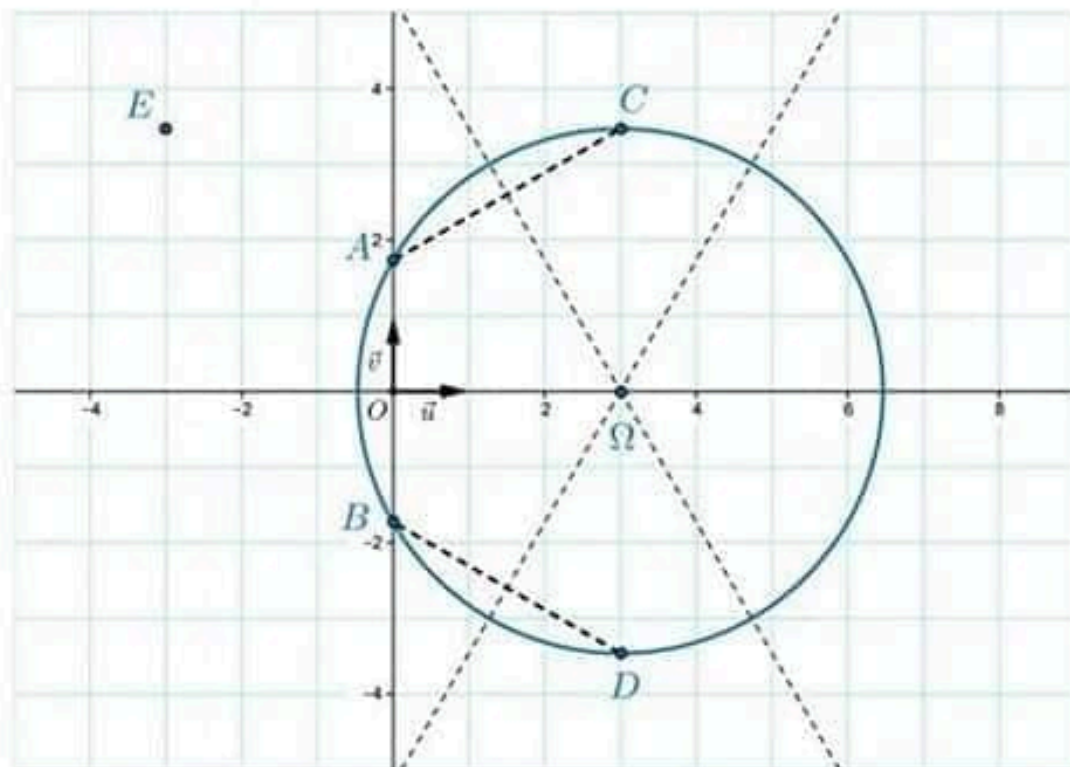
$\Omega A = \sqrt{12}$, $\Omega C = \sqrt{12}$, $\Omega B = |-i\sqrt{3} - 3| = \sqrt{12}$ et $\Omega D = |3 - 2i\sqrt{3} - 3| = \sqrt{12}$ donc A, B, C et D appartiennent au cercle \mathcal{C} de centre $\Omega(3)$ et de rayon $\sqrt{12}$

4) $z_e = -z_0 = -3 + 2i\sqrt{3}$

$$\frac{z_c - z_B}{z_e - z_B} = \frac{3 + 2i\sqrt{3} + i\sqrt{3}}{-3 + 2i\sqrt{3} + i\sqrt{3}} = \frac{3 + 3i\sqrt{3}}{-3 + 3i\sqrt{3}} = \frac{1 + i\sqrt{3}}{-1 + i\sqrt{3}} = \frac{(1 + i\sqrt{3})(-1 - i\sqrt{3})}{4} = \frac{1 - i\sqrt{3}}{2} = \frac{1}{2} - i\frac{\sqrt{3}}{2} = e^{-i\frac{\pi}{3}}$$

$$\left| \frac{z_c - z_B}{z_e - z_B} \right| = |e^{-i\frac{\pi}{3}}| = 1 \text{ donc } BE = BC \text{ est isocèle}$$

$$(\overline{BC}, \overline{BE}) = \arg\left(\frac{z_c - z_B}{z_e - z_B}\right) = \arg(e^{-i\frac{\pi}{3}}) = -\frac{\pi}{3} + 2k\pi \quad (k \in \mathbb{Z}) \text{ donc } BEC \text{ est équilatéral}$$



tuniTests.tn
نجاحك يهمنا

Exercice n° 10

1) a) $z^4 - 1 = (z^2 + 1)(z^2 - 1) = (z - i)(z + i)(z - 1)(z + 1)$

b) $P(z) = 0 \Leftrightarrow (z - i)(z + i)(z - 1)(z + 1) = 0$ donc $S_C = \{-i, i, -1, 1\}$

c) On pose $Z = \frac{2z+1}{z-1}$ on aura, pour tout $z \neq 1$,

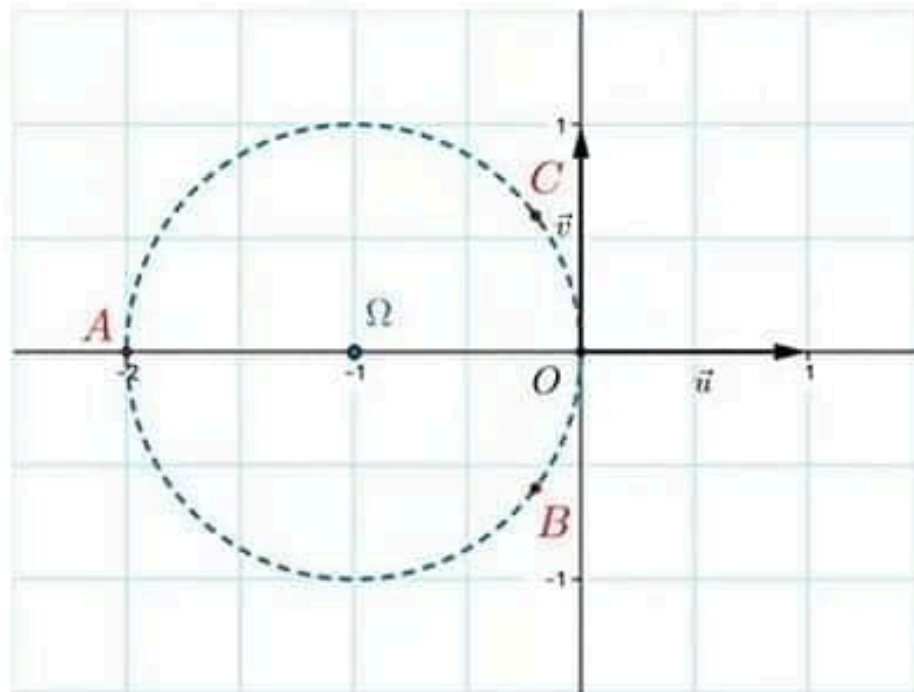
$$\left(\frac{2z+1}{z-1}\right)^4 = 1 \Leftrightarrow Z^4 = 1 \Leftrightarrow Z = -i \text{ ou } Z = i \text{ ou } Z = -1 \text{ ou } Z = 1$$

$$\Leftrightarrow \frac{2z+1}{z-1} = -i \text{ ou } \frac{2z+1}{z-1} = i \text{ ou } \frac{2z+1}{z-1} = -1 \text{ ou } \frac{2z+1}{z-1} = 1$$

$$\Leftrightarrow \frac{2z+1}{z-1} = -iz + i \text{ ou } \frac{2z+1}{z-1} = iz - i \text{ ou } \frac{2z+1}{z-1} = -\frac{z-1}{z-1} \text{ ou } \frac{2z+1}{z-1} = \frac{z-1}{z-1}$$

$$\Leftrightarrow z = \frac{i-1}{2+i} = -\frac{1}{5} + \frac{3}{5}i \text{ ou } z = \frac{-1-i}{2-i} = -\frac{1}{5} - \frac{3}{5}i \text{ ou } z = 0 \text{ ou } z = -2$$

$$S_C = \left\{0, -2, -\frac{1}{5} + \frac{3}{5}i, -\frac{1}{5} - \frac{3}{5}i\right\}$$



2) b et c sont conjugués donc tous les cercles qui passent par B et C ont des centres sur l'axe des abscisses de plus A et O sont sur l'axe des abscisses donc si O, A B et C sont situés sur un même cercle il sera le cercle de diamètre [OA]. Vérifions cette hypothèse :

$\Omega(-1)$ est le milieu de [OA]

$$\Omega A = |a + 1| = |-1 + 1| = 1 \quad \Omega B = |b + 1| = \left| \frac{4}{5} - \frac{3}{5}i \right| = \frac{1}{5}|4 - 3i| = 1$$

$$\Omega C = |c + 1| = \left| \frac{4}{5} + \frac{3}{5}i \right| = \frac{1}{5}|4 + 3i| = 1 \quad \Omega O = |-1| = 1$$

Donc $\Omega A = \Omega B = \Omega C = \Omega O$ d'où le résultat.



tuniTests.tn

نجاحك بهمنا

3) a) $z' = \frac{a-c}{d-c} = \frac{-9-3i}{-3-3i} = 2-2i$

b) $\frac{CA}{CD} = \left| \frac{a-c}{d-c} \right| = |2-2i| = 2\sqrt{2} \quad (\overline{CD}, \overline{CA}) = \arg\left(\frac{a-c}{d-c}\right) = \arg(2-2i) = -\frac{\pi}{4} + 2k\pi \quad (k \in \mathbb{Z})$

Exercice n° 11

1) a) $(-i)^2 + (-8+i)^2 - (17-8i)i + 17i = i - (-8+i) - 17i + 8 + 17i = i + 8 - i - 17i - 8 + 17i = 0$ donc $(-i)$ est une racine de (E)

b) et par suite on peut écrire :

$$z^2 + (-8+i)z^2 + (17-8i)z + 17i = (z+i)(az^2 + bz + c) = az^3 + bz^2 + cz + aiz^2 + biz + ci = az^3 + (b+ai)z^2 + (c+bi)z + ci$$

$$\text{Donc } \begin{cases} a = 1 \\ b+ai = -8+i \\ c+bi = 17-8i \\ ci = 17i \end{cases} \Leftrightarrow \begin{cases} a = 1 \\ b = -8 \\ c = 17 \end{cases}$$

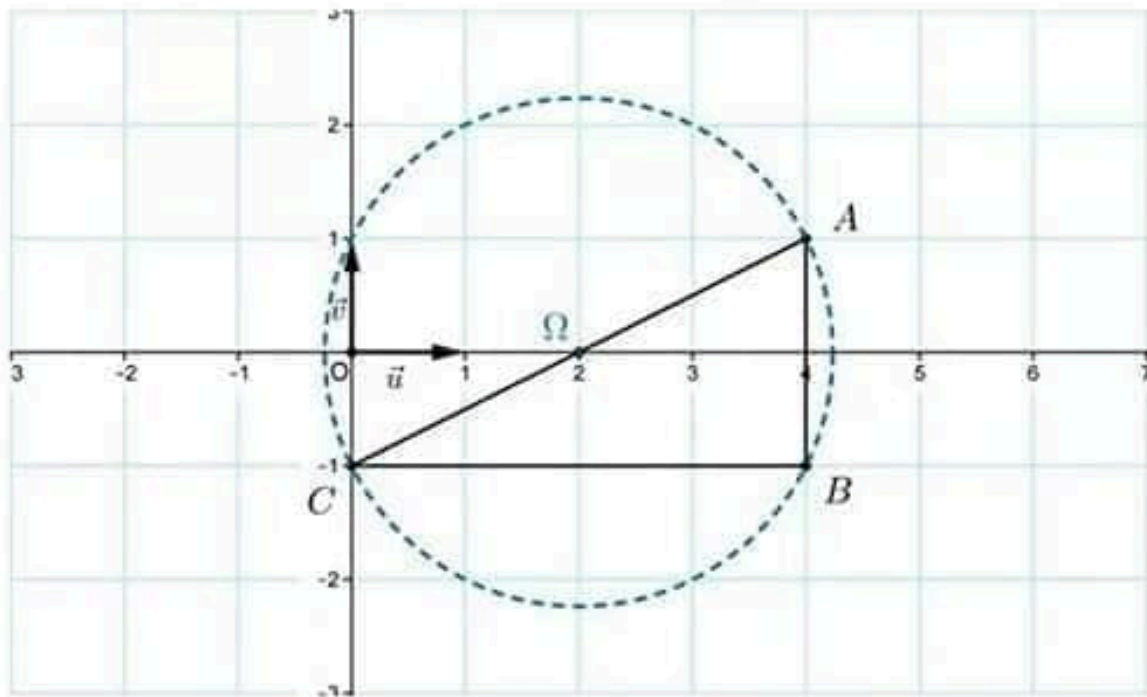
c'est-à-dire $z^2 + (-8+i)z^2 + (17-8i)z + 17i = (z+i)(z^2 - 8z + 17)$

c) $z^2 - 8z + 17 = 0, \Delta = 64 - 4 \times 17 = -4 = (2i)^2, z_1 = \frac{8-2i}{2} = 4-i$ et $z_2 = \frac{8+2i}{2} = 4+i$

$$z^2 + (-8+i)z^2 + (17-8i)z + 17i = 0 \Leftrightarrow z+i = 0 \text{ ou } z^2 - 8z + 17 = 0 \Leftrightarrow z = -i \text{ ou } z = 4-i \text{ ou } z = 4+i$$

2) b) $\frac{a-b}{c-b} = \frac{-2i}{4} = -\frac{1}{2}i$ est imaginaire pure donc ABC est rectangle en B

e) $z_0 = \frac{a+c}{2} = 2$



- 3) ABC est rectangle en B donc Ω est le centre du cercle \mathcal{C} circonscrit à ABC. Vérifions que $D \in \mathcal{C}$:
- $$\Omega D = |z_D - \omega| = |1 + 2i| = \sqrt{5}$$
- $$\Omega A = |z_A - \omega| = |2 - i| = \sqrt{5} = \Omega D \text{ donc } D \text{ appartient au cercle de centre } \Omega \text{ et passant par } A : \text{ c'est le cercle } \mathcal{C}$$
- Conclusion : A, B, C et D appartiennent au cercle \mathcal{C} de centre Ω et de rayon $\sqrt{5}$

Exercice n° 12

1) a) $z^2 - 2z + 5 = 0 \quad \Delta = 4 - 20 = -16 = (4i)^2$ donc $z_1 = \frac{2+4i}{2} = 1+2i$ et $z_2 = \frac{2-4i}{2} = 1-2i$

b) $z^2 - 2(1+\sqrt{3})z + 5 + 2\sqrt{3} = 0, \Delta = 4(1+\sqrt{3})^2 - 20 - 8\sqrt{3} = -16 = -4 = (2i)^2$ donc :

$$z_1 = \frac{2(1+\sqrt{3})+2i}{2} = 1+\sqrt{3}+i \quad \text{et} \quad z_2 = \frac{2(1+\sqrt{3})-2i}{2} = 1+\sqrt{3}-i$$

2) a) ABCD est un trapèze :

$$\frac{z_A - z_D}{z_B - z_C} = \frac{4i}{2i} = 2 \in \mathbb{R} \text{ donc } (AD) \parallel (BC)$$

b) $\frac{z_D - z_B}{z_A - z_B} = \frac{-\sqrt{3} - 3i}{-\sqrt{3} + i} = \frac{(-\sqrt{3} - 3i)(-\sqrt{3} - i)}{(-\sqrt{3} + i)(-\sqrt{3} - i)} = \frac{4\sqrt{3}i}{2} = 2i\sqrt{3}$

$$\frac{z_D - z_B}{z_A - z_B} \text{ est imaginaire pure donc } (AB) \perp (BD)$$

c) ABD est un triangle rectangle donc Ω , le milieu de [AD], est le centre du son cercle circonscrit

$$z_\Omega = \frac{z_A + z_D}{2} = 1 \quad \Omega A = |2i| = 2$$

Vérifions donc que C appartient au cercle \mathcal{C} de centre Ω et de rayon 2 (le cercle circonscrit au triangle ABC) :

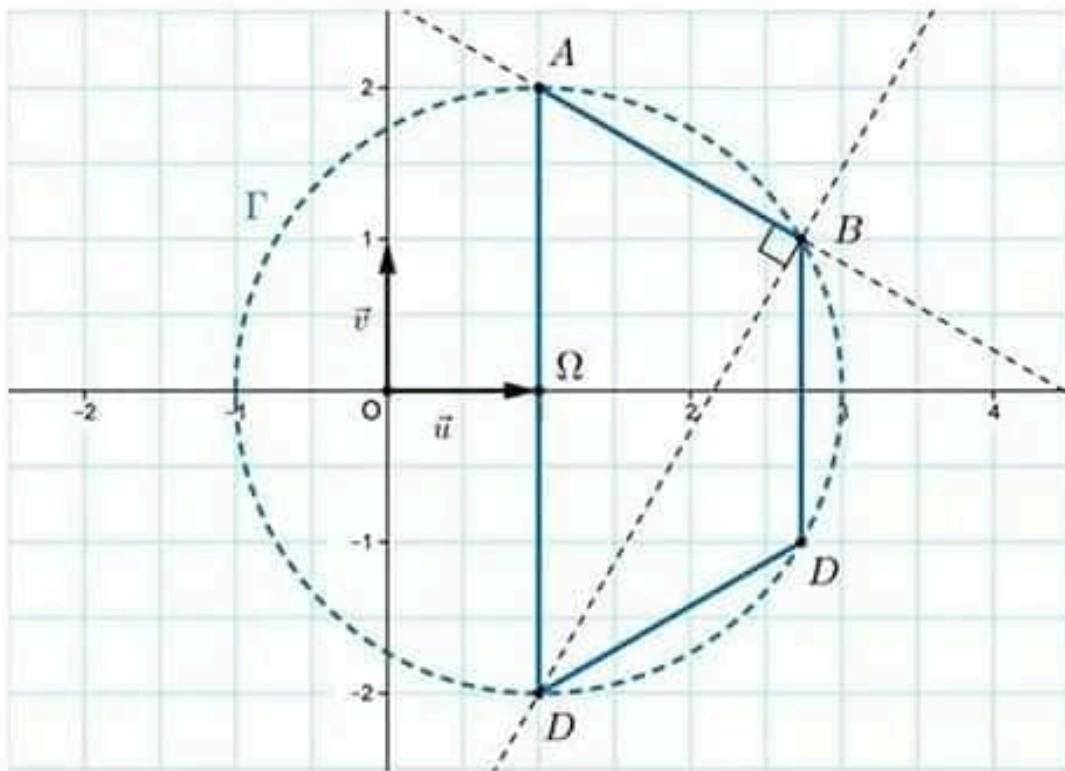
$$\Omega C = |1 - 1 + \sqrt{3} - i| = |\sqrt{3} - i| = 2 \text{ d'où le résultat}$$





tuniTests.tn

نجاحك يهمنا



$$3) z^2 - 2(1 + 2\cos\theta)z + 5 + 4\cos\theta = 0$$

$$\Delta = 4(1 + 2\cos\theta)^2 - 20 - 16\cos\theta = 4(1 + 4\cos\theta + 4\cos^2\theta) - 20 - 16\cos\theta = -16 + 16\cos^2\theta = -16\sin^2\theta = (4i\sin\theta)^2$$

$$z_1 = \frac{2(1 + 2\cos\theta) - 4i\sin\theta}{2} = 1 + 2\cos\theta - 2i\sin\theta = 1 + 2e^{-i\theta}$$

$$z_2 = \frac{2(1 + 2\cos\theta) + 4i\sin\theta}{2} = 1 + 2\cos\theta + 2i\sin\theta = 1 + 2e^{i\theta}$$

$|z_1 - z_1| = |2e^{-i\theta}| = 2 = |z_1 - z_2|$ donc les images de z_1 et z_2 sont situés sur le cercle Γ

Exercice n° 13

$$1) z^2 - 4z + 8 = 0, \Delta = 16 - 4 \times 8 = -16 = (4i)^2 \text{ donc } z_1 = \frac{4 + 4i}{2} = 2 + 2i \text{ et } z_2 = \frac{4 - 4i}{2} = 2 - 2i$$

$$2) |z_1| = \sqrt{4 + 4} = \sqrt{8} = 2\sqrt{2} \quad \arg(z_1) = \arg(2 + 2i) = \frac{\pi}{4}$$

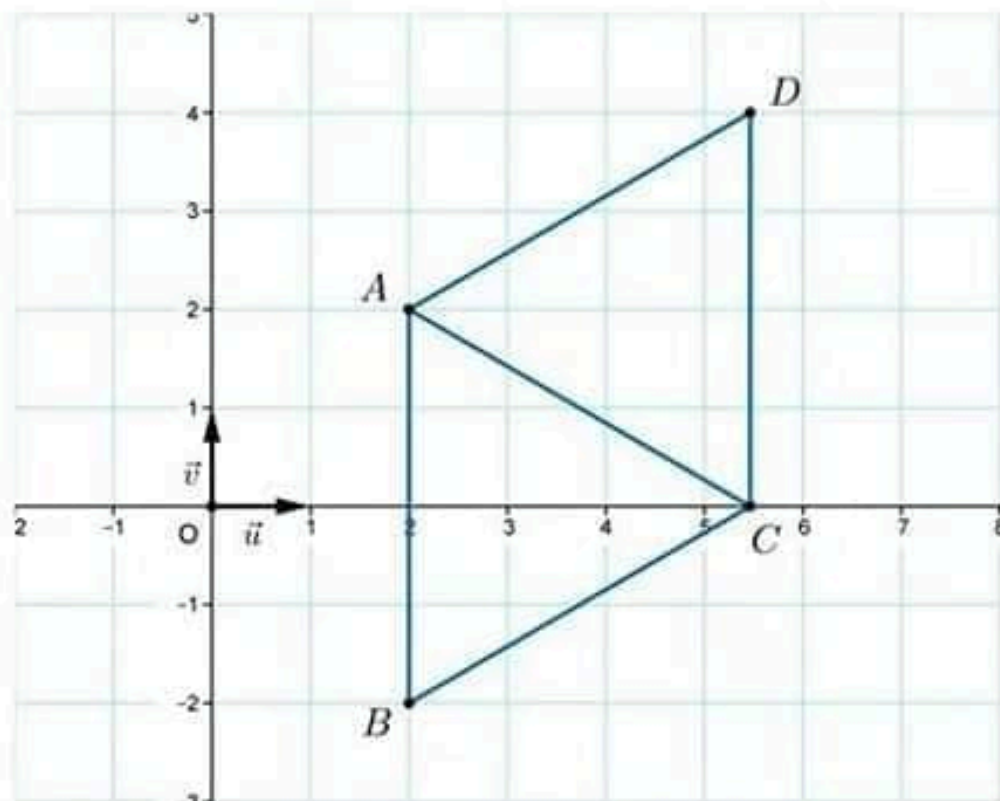
$$|z_2| = \sqrt{4 + 4} = \sqrt{8} = 2\sqrt{2} \quad \arg(z_2) = \arg(2(1 - i)) = -\frac{\pi}{4}$$

$$3) b) AB = |z_B - z_A| = |4i| = 4, AC = |z_C - z_A| = |2\sqrt{3} - 2i| = 4, BC = |z_C - z_B| = |2\sqrt{3} - 2i| = 4$$

Donc ABC est un triangle équilatéral

$$c) z_{\overline{AB}} = z_B - z_A = -4i \text{ et } z_{\overline{DC}} = z_C - z_D = -4i = z_{\overline{AB}}$$

donc $\overline{AB} = \overline{DC}$ donc ABCD est un parallélogramme et comme $AB = BC$ alors ABCD est un losange



Exercice n° 14

1) $z^2 - 2z\sqrt{2} + 4 = 0 \quad \Delta = 8 - 16 = -8 = (2i\sqrt{2})^2$

donc $z' = \frac{2\sqrt{2} - 2i\sqrt{2}}{2} = \sqrt{2}(1-i) = 2e^{-i\frac{\pi}{4}}$ et $z'' = \frac{2\sqrt{2} + 2i\sqrt{2}}{2} = \sqrt{2}(1+i) = 2e^{i\frac{\pi}{4}}$

$S_c = \{(1+i)\sqrt{2}, (1-i)\sqrt{2}\}$

2) $|z| = \left| \frac{a-c}{b-c} \right| = \frac{AC}{BC}$ et $\arg(z) = (\overline{CB}, \overline{CA})$

$$z = \frac{\sqrt{2} + i\sqrt{2} + 2}{\sqrt{2} - i\sqrt{2} + 2} = \frac{1 + \sqrt{2} + i}{1 + \sqrt{2} - i} = \frac{(1 + \sqrt{2} + i)^2}{(1 + \sqrt{2})^2 + 1} = \frac{(1 + \sqrt{2})^2 + 2i(1 + \sqrt{2}) - 1}{4 + 2\sqrt{2}}$$

$$= \frac{2 + 2\sqrt{2} + 2i(1 + \sqrt{2})}{2\sqrt{2}(1 + \sqrt{2})} = \frac{1}{\sqrt{2}} + \frac{1}{\sqrt{2}}i = \cos\frac{\pi}{4} + i\sin\frac{\pi}{4} = e^{i\frac{\pi}{4}}$$

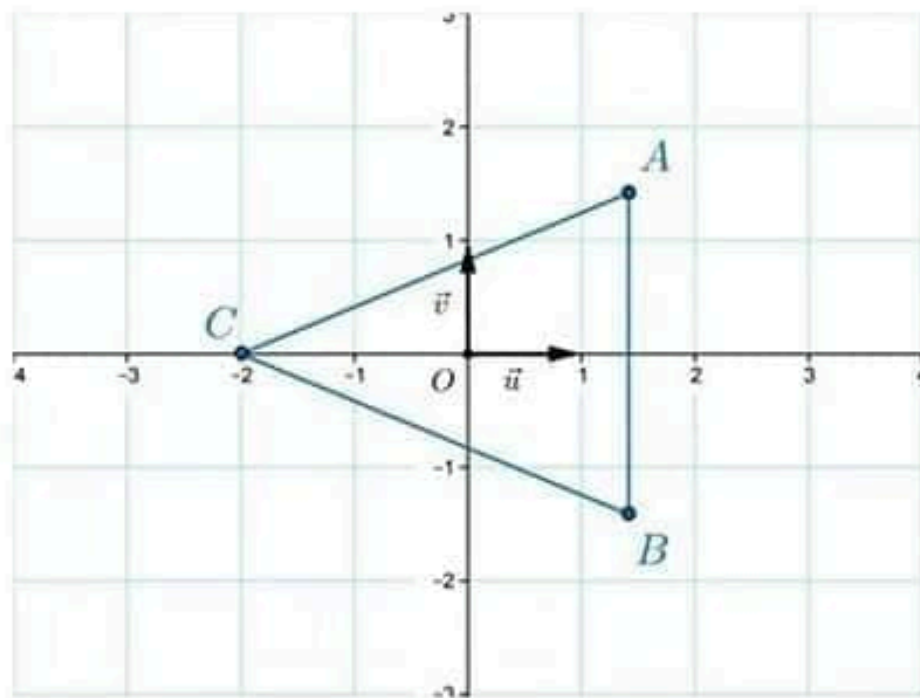
$|z| = \frac{AC}{BC} = 1$ donc $AC = BC$ et par suite ABC est un triangle isocèle.

$(\overline{CB}, \overline{CA}) = \arg(z) = \frac{\pi}{4}$



tuniTests.tn

نجاحك يهمنا



tuniTests.tn

نجاحك يهمنا

Exercice n° 15**Partie A**

1) $(3+4i)^2 = 9 + 24i - 16 = -7 + 24i$

2) $z^2 - (5+2i)z + 7 - i = 0 \quad \Delta = (5+2i)^2 - 4(7-i) = 25 + 20i - 4 - 28 + 4i = -7 + 24i = (3+4i)^2$

$$z_1 = \frac{5+2i - (3+4i)}{2} = \frac{2-2i}{2} = 1-i \text{ et } z_2 = \frac{5+2i + (3+4i)}{2} = \frac{8+6i}{2} = 4+3i$$

3) $i^3 - (5+3i)i^2 + (5+4i)i - 1 - 7i = -i + 5 + 3i + 5i - 4 - 1 - 7i = 0$ donc i est une racine de (E)

4) On peut donc écrire :

$$\begin{aligned} z^3 - (5+3i)z^2 + (5+4i)z - 1 - 7i &= (z-i)(az^2 + bz + c) \\ &= az^3 + bz^2 + cz - aiz^2 - biz - ci \\ &= az^3 + (b-ai)z^2 + (c-bi)z - ci \end{aligned}$$

$$\text{Donc } \begin{cases} a = 1 \\ b - ai = -5 - 3i \\ c - bi = 5 + 4i \\ -ci = -1 - 7i \end{cases} \Leftrightarrow \begin{cases} a = 1 \\ b = -5 - 2i \\ c = 7 - i \end{cases}$$

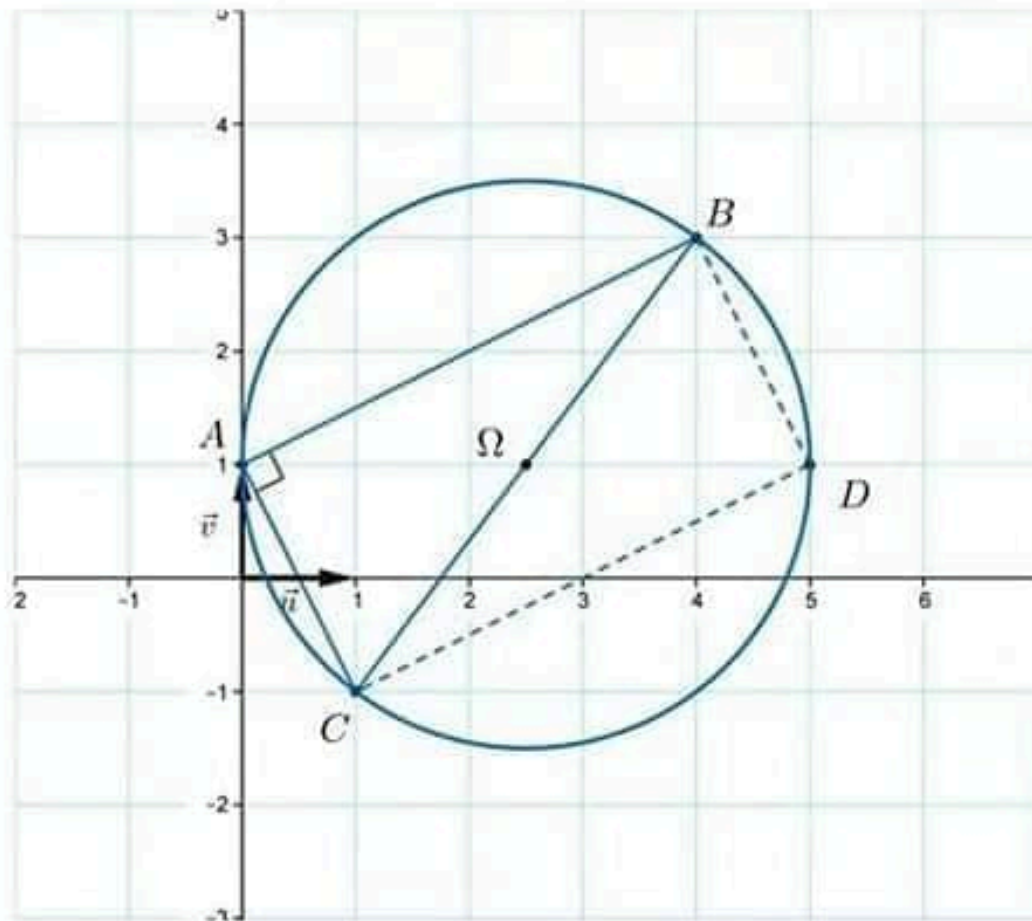
c'est-à-dire $z^3 - (5+3i)z^2 + (5+4i)z - 1 - 7i = (z-i)(z^2 - (5+2i)z + 7-i)$

$$\begin{aligned} 5) \quad z^3 - (5+3i)z^2 + (5+4i)z - 1 - 7i &= 0 \Leftrightarrow (z-i)(z^2 - (5+2i)z + 7-i) = 0 \\ &\Leftrightarrow z-i = 0 \text{ ou } z^2 - (5+2i)z + 7-i = 0 \\ &\Leftrightarrow z = i \text{ ou } z = 1-i \text{ ou } z = 4+3i \end{aligned}$$

$$S_c = \{i, 1-i, 4+3i\}$$

Partie B

1)



- 2) $\frac{z_B - z_A}{z_C - z_A} = \frac{4 + 2i}{1 - 2i} = 2i$ est imaginaire pure donc $(AB) \perp (AC)$ c'est-à-dire ABC est rectangle en A.
- 3) a) ABC est rectangle en A donc le centre de son cercle circonscrit est le milieu de $[BC]$ c'est-à-dire $z_{\Omega} = \frac{z_B + z_C}{2} = \frac{5 + 2i}{2} = \frac{5}{2} + i$
- b) $r = \Omega A = |z_A - z_{\Omega}| = \left| -\frac{5}{2} \right| = \frac{5}{2}$
- 4) a) $\Omega D = |z_D - z_{\Omega}| = \left| \frac{5}{2} \right| = \frac{5}{2} = r$ donc $D \in \mathcal{C}$.
- b) Il suffit de montrer que ABCD est un parallélogramme pour conclure puisque \widehat{BAC} est un angle rectangle.
- $z_{\overline{AC}} = z_C - z_A = 1 - 2i$
- $z_{\overline{BD}} = z_D - z_B = 1 - 2i = z_{\overline{AC}}$ donc $\overline{AC} = \overline{BD}$ donc ABCD est un parallélogramme et par conséquence un rectangle